

Admiraliteit No. 14

Zuidhollandse Stroom

Nautisch Technische Commissie

Theorie examen MBL Z1 - Zeilen / CWO Kielboot III

Set: 202



1 Beide schepen naderen elkaar recht van voren. Wie moet wijken?

- Keuze A:** beide schepen moeten naar stuurboord uitwijken;
- Keuze B:** de roeiboot moet wijken;
- Keuze C:** de zeilboot moet wijken;
- Keuze D:** beide schepen moeten naar bakboord uitwijken.

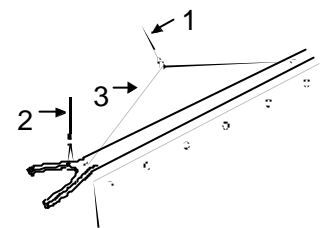


2 Als je snel wilt afvallen zonder je roer te gebruiken:

- Keuze A:** trek je de grootschoot aan en vier je de fok;
- Keuze B:** trek je de grootschoot en de fok aan;
- Keuze C:** vier je de grootschoot en de fok;
- Keuze D:** vier je de grootschoot en trek je de fok bak.

3 Geef de juiste volgorde van de genummerde onderdelen aan.

- Keuze A:** 1=piekeval. 2=klauwval. 3=spruitloper;
- Keuze B:** 1=klauwval. 2=piekeval. 3=spruit;
- Keuze C:** 1=piekeval. 2=klauwval. 3=spruit;
- Keuze D:** 1=kraanlijn. 2=klauwval. 3=spruit.



4 Verlijeren betekent:

- Keuze A:** fok en grootzeil vieren;
- Keuze B:** naar bakboord draaien;
- Keuze C:** dwars afdrijven;
- Keuze D:** fok en grootzeil aantrekken.

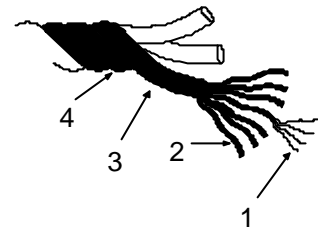
5 Het KNMI geeft een "waarschuwing voor de scheepvaart" af vanaf:

- Keuze A:** windkracht 5 en meer;
- Keuze B:** windkracht 6 en meer;
- Keuze C:** windkracht 7 en meer;
- Keuze D:** windkracht 8 en meer.

6 Wanneer is een schip loefgierig?

- Keuze A:** als het zeilpunt voor het lateraal punt staat;
- Keuze B:** als het zeilpunt achter het lateraal punt staat;
- Keuze C:** als het zeilpunt en het lateraal punt samen vallen;
- Keuze D:** als het zwaartepunt achter het zeilpunt valt.

7 In de nevenstaande tekening zijn delen van een touw genummerd. Bij welk alternatief staan bij de nummers de juiste benamingen.



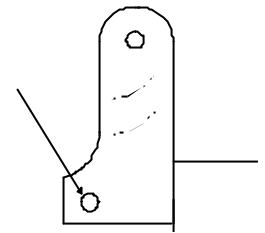
- Keuze A: 1-garen; 2-vezel; 3-kardeel; 4-gleuf;
- Keuze B: 1-garen; 2-vezel; 3-streng; 4-tier;
- Keuze C: 1-vezel; 2-garen; 3-kardeel; 4-gleuf;
- Keuze D: 1-vezel; 2-garen; 3-streng; 4-tier.

8 Een geluidsein van "2 korte stoten" betekent?

- Keuze A: u kunt aan BB voorbij varen;
- Keuze B: noodsein;
- Keuze C: ik ga SB uit;
- Keuze D: ik ga BB uit.

9 Wat wordt aangegeven door de pijl?

- Keuze A: mastbout
- Keuze B: grendelbout;
- Keuze C: mastklem;
- Keuze D: kokerbout.

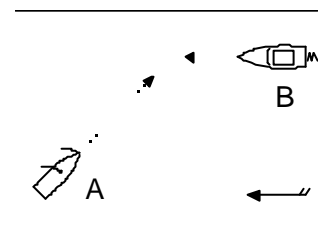


10 Bij het teren van een boot gebruiken we:

- Keuze A: een platte kwast en maken een draaiende beweging;
- Keuze B: een platte kwast en maken een strijkende beweging;
- Keuze C: een radiatorkwast en maken een strijkende beweging;
- Keuze D: een bokkepoot en maken een draaiende beweging.

11 A en B zijn kleine schepen. Wie moet wijken?

- Keuze A: A wijkt voor B;
- Keuze B: B wijkt voor A;
- Keuze C: beiden wijken naar SB;
- Keuze D: A wijkt naar SB; en B wijkt naar BB.



12 Geslagen nylonlijn is geschikt voor:

- Keuze A: schoten;
- Keuze B: landvast en/of ankerlijn;
- Keuze C: vallen;
- Keuze D: marlijn.

13 Wat betekent het volgende bord: 3 gelijke banen horizontaal met gelijke banen gestreept rood - wit - rood:

- Keuze A: in-; uit- of doorvaren verboden;
- Keuze B: vaarverbod; niet geldend voor een klein schip; dat geen motorschip is;
- Keuze C: verboden hinderlijke waterbeweging te veroorzaken;
- Keuze D: invaarverbod voor kleine vaartuigen.

Rood
Wit
Rood

14 Een boot is loefgierig als hij:

- Keuze A:** de neiging heeft van de wind af te draaien;
 - Keuze B:** de neiging heeft naar de wind toe te draaien;
 - Keuze C:** de neiging heeft snel stil te liggen;
 - Keuze D:** de neiging heeft te hellen.
-

15 Om 2 landvasten van ongelijke dikte aan elkaar te maken gebruiken we:

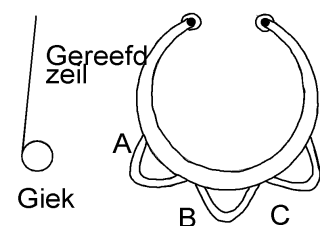
- Keuze A:** de reefsteek;
 - Keuze B:** de schootsteek;
 - Keuze C:** de trompetsteek;
 - Keuze D:** de platteknoop.
-

16 De nederlandse vlag wordt op een vlet gevoerd:

- Keuze A:** achter op het roer;
 - Keuze B:** in het SB-want;
 - Keuze C:** in de top van de mast;
 - Keuze D:** in het BB-want.
-

17 Als je gaat reven zet je de schoot aan je schootring volgens tekening?

- Keuze A:** A;
- Keuze B:** B;
- Keuze C:** C;
- Keuze D:** maakt niets uit welke je neemt.



18 Eisen die aan een reddingvest gesteld dienen te worden; zijn:

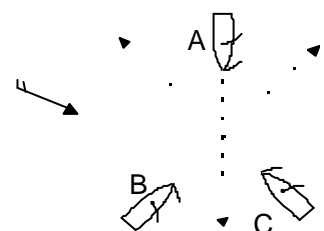
- Keuze A:** drijfvermogen aan de borstzijde en een kraag;
 - Keuze B:** drijfvermogen aan de borstzijde en geen kraag en een handgreep;
 - Keuze C:** drijfvermogen aan de rugzijde en een kraag;
 - Keuze D:** drijfvermogen aan de borstzijde links en rechts verschillend en een kraag.
-

19 Wat is afvallen ?

- Keuze A:** veranderen van koers naar de wind toe;
 - Keuze B:** gijpen door overstag te gaan;
 - Keuze C:** overstag te gaan door gijpen;
 - Keuze D:** veranderen van koers van de wind af.
-

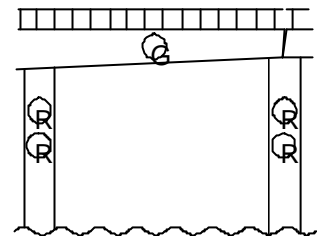
20 Geef de volgorde van doorvaart:

- Keuze A:** B C A
- Keuze B:** A C B
- Keuze C:** C B A
- Keuze D:** A B C



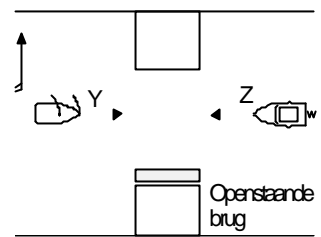
21 Wat betekenen deze lichten op de brug?

- Keuze A: doorvaart verboden;
- Keuze B: doorvaart verboden; opent op verzoek;
- Keuze C: doorvaart toegestaan; tegenliggers mogelijk; wordt niet bediend;
- Keuze D: doorvaart toegestaan; opent op verzoek.



22 De doorvaart van deze brug is niet geregeld door lichten en/of andere seinen. Wie moet wijken?

- Keuze A: beide moeten naar stuurboord uitwijken;
- Keuze B: vaartuig "Y";
- Keuze C: vaartuig "Z";
- Keuze D: niet geregeld, onderling contact opnemen met marifoon.



23 Wat betekent laveren?

- Keuze A: een koers tegen de wind in varen door steeds overstag te gaan;
- Keuze B: de boot weer overeind trekken nadat deze is omgeslagen;
- Keuze C: een slalom varen om een rij boeien heen;
- Keuze D: een zigzaggende koers varen voor de wind om te voorkomen dat een onverwachte gijp wordt gemaakt.

24 Wat voor type reefinrichting heeft een lelievlet ?

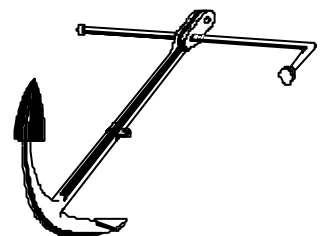
- Keuze A: lummelreef;
- Keuze B: rolreef;
- Keuze C: knuttelreef;
- Keuze D: steekreef.

25 Waar moet je de jaaglijn bevestigen?

- Keuze A: aan de punt van de boot;
- Keuze B: aan de voet van de mast;
- Keuze C: aan de top van de gaffel;
- Keuze D: iets boven de mastkoker.

26 Dit type anker is een:

- Keuze A: klipanker;
- Keuze B: stokanker;
- Keuze C: ploegschaaranker;
- Keuze D: danforthanker.

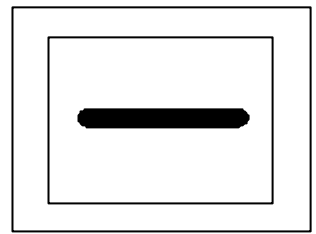


27 Als U aan boord van een andermans schip wilt komen dan vraagt U eerst toestemming aan de eigenaar en gaat dan normaal gesproken:

- Keuze A: over het voordek;
- Keuze B: over het mastdek;
- Keuze C: over het achterdek;
- Keuze D: over de luikenkap.

28 Dit bord (rode rand, zwarte balk) duidt aan:

- Keuze A: geen hinderlijke waterbeweging;
- Keuze B: verboden te keren;
- Keuze C: doorvaart verboden;
- Keuze D: verplichting voor het bord stil te houden.



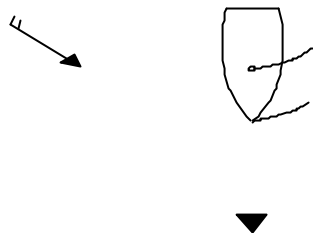
29 Wie wijkt ?

- Keuze A: A wijkt omdat B het zeil over BB heeft;
- Keuze B: A wijkt omdat zeilschepen in deze situatie altijd voorrang hebben;
- Keuze C: B wijkt omdat A over SB nadert;
- Keuze D: B wijkt omdat motorvaartuigen in deze situatie altijd voorrang hebben.



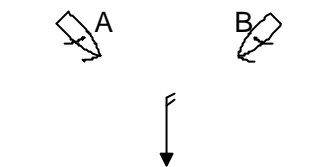
30 Welke koers vaart de hier getekende zeilboot?

- Keuze A: binnen de wind over BB;
- Keuze B: aan de wind over BB;
- Keuze C: ruime wind over BB;
- Keuze D: voor de wind over BB.



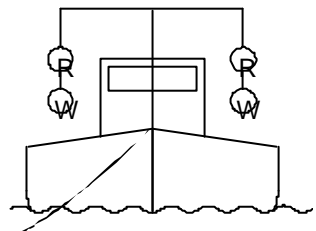
31 Omdat in de hier getekende situatie gevaar voor aanvaring ontstaat; moet:

- Keuze A: het schip B wijken omdat dit A over haar stuurboord boeg peilt;
- Keuze B: het schip A wijken omdat B haar zeilen over bakboord heeft uitstaan;
- Keuze C: het schip B wijken omdat A haar zeilen over stuurboord heeft uitstaan;
- Keuze D: het schip A wijken omdat B het meest lijwaartse schip is.



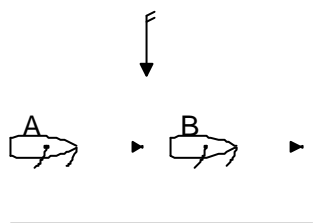
32 Wat geeft een baggerwerktuig; dat des nachts onderstaande lichten voert aan?

- Keuze A: het vaarwater is aan beide zijden vrij;
- Keuze B: het vaarwater is aan beide zijden niet vrij;
- Keuze C: het vaarwater is aan beide zijden vrij; tijdens het voorbij varen geen hinderlijke waterbeweging veroorzaken;
- Keuze D: schip is bezig met baggerwerkzaamheden.



33 A wil oplopen; wat moet B doen?

- Keuze A: B hoeft niet te wijken; A mag passeren als er geen gevaar dreigt;
- Keuze B: B moet wijken naar stuurboord;
- Keuze C: B moet wijken naar bakboord;
- Keuze D: oplossen volgens goede zeemanschap.

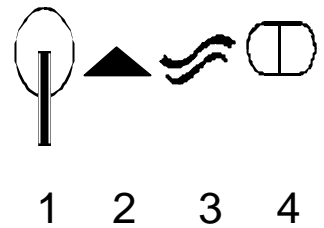


34 Bezeild wil zeggen:

- Keuze A: een schip met gehesen zeil(en);
- Keuze B: zeilende een punt kunnen bereiken zonder daarvoor overstag te gaan;
- Keuze C: een zeilschip op de voor de windse koers;
- Keuze D: een ervaren bootsman.

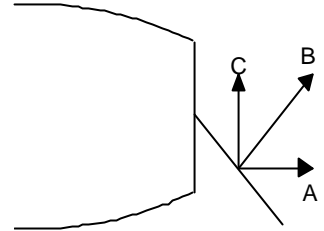
35 In nevenstaande tekening staan 4 zeiltekens afgebeeld. Welke naam hoort bij elk teken ?

- Keuze A:** 1-Optimist. 2-Pampus . 3-Solo. 4-470-Klasse;
Keuze B: 1-Piraat. 2-Regenboog. 3-OK-Jol. 4-Spanker;
Keuze C: 1-Optimist. 2-Pampus. 3-Finn. 4-Schakel;
Keuze D: 1-Piraat. 2-Pampus. 3-OK-Jol. 4-Schakel.



36 B is de kracht die op het roer werkt; A en C zijn de ontbindende krachten van B. Wat is juist?

- Keuze A:** geen enkele kracht werkt remmend; alle op het roer werkende krachten helpen de boot draaien;
Keuze B: A werkt remmend; de boot draait tengevolge van C;
Keuze C: C werkt remmend; de boot draait tengevolge van A;
Keuze D: antwoorden A; B en C kloppen alle 3 niet.



37 Je ziet deze lichten: groen boven wit. Dit betekent:

- Keuze A:** langs de kant gemeerd liggend vaartuig dat hinderlijke waterbeweging wil voorkomen;
Keuze B: brug die ook bij nacht bediend wordt;
Keuze C: niet-vrij varende veerpont;
Keuze D: vissersschip met uitstaand vistuig.

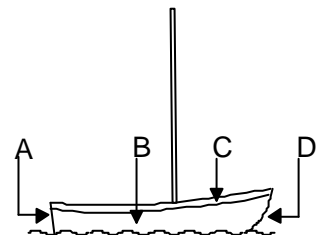


38 Onder "krimpen" van de wind verstaat men:

- Keuze A:** dat de windkracht afneemt;
Keuze B: dat de richting van de wind verandert tegen de wijzers van het uurwerk;
Keuze C: dat de richting van de wind verandert met de wijzers van het uurwerk;
Keuze D: dat de wind in de richting van het noorden gaat draaien.

39 Waar bevindt zich de spiegel?

- Keuze A:** A
Keuze B: B
Keuze C: C
Keuze D: D



40 Bij het onderhoud moet roest:

- Keuze A:** geheel worden verwijderd en de kale plek gemenied worden;
Keuze B: geheel worden verwijderd en de kale plek moet een extra laag grondverf krijgen;
Keuze C: glad geschuurd en gemenied worden;
Keuze D: glad geschuurd en verder gewoon geverfd worden.

41 De schaal van Beaufort wordt gebruikt voor het aangeven van:

- Keuze A: de windkracht;
 - Keuze B: de windrichting;
 - Keuze C: de bewolking;
 - Keuze D: de luchtdruk.
-

42 Waarvoor dienen zeillatten?

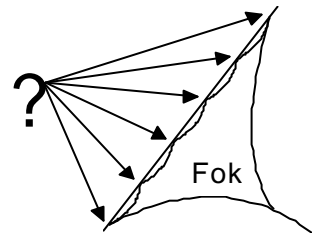
- Keuze A: om het killen van het grootzeil tegen te gaan;
 - Keuze B: om uitwaaiëren van het achterlijk te voorkomen;
 - Keuze C: om te kunnen zien dat het grootzeil goed t.o.v. de wind staat;
 - Keuze D: om een betere bolling in het grootzeil te krijgen.
-

43 Wat doe je als eerste als je boot midden in een meer is omgeslagen ?

- Keuze A: zelf naar de wal zwemmen om hulp te halen;
 - Keuze B: tellen of alle bemanningsleden weer boven water zijn;
 - Keuze C: de boot aftuigen;
 - Keuze D: een van de bemanningsleden naar de wal laten zwemmen om hulp te halen.
-

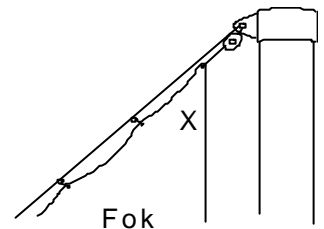
44 Waarmee wordt de fok aan de voorstag bevestigd ?

- Keuze A: de voorstagsluitingen;
- Keuze B: de foklopers;
- Keuze C: de leuvers;
- Keuze D: de staghaken.



45 Hoe heet deze hoek in de fok?

- Keuze A: bovenhoek;
- Keuze B: masthoek;
- Keuze C: tophoek;
- Keuze D: halshoek.



Admiraliteit No. 14

Zuidhollandse Stromen

Nautisch Technische Commissie

Theorie examen MBL Z1 - Zeilen / CWO Kielboot III

Set: 202



	A	B	C	D		A	B	C	D
1 :	<input type="checkbox"/>	<input checked="" type="checkbox"/>	<input type="checkbox"/>	<input type="checkbox"/>	26 :	<input type="checkbox"/>	<input checked="" type="checkbox"/>	<input type="checkbox"/>	<input type="checkbox"/>
2 :	<input type="checkbox"/>	<input type="checkbox"/>	<input type="checkbox"/>	<input checked="" type="checkbox"/>	27 :	<input checked="" type="checkbox"/>	<input type="checkbox"/>	<input type="checkbox"/>	<input type="checkbox"/>
3 :	<input type="checkbox"/>	<input type="checkbox"/>	<input checked="" type="checkbox"/>	<input type="checkbox"/>	28 :	<input type="checkbox"/>	<input type="checkbox"/>	<input type="checkbox"/>	<input checked="" type="checkbox"/>
4 :	<input type="checkbox"/>	<input type="checkbox"/>	<input checked="" type="checkbox"/>	<input type="checkbox"/>	29 :	<input type="checkbox"/>	<input checked="" type="checkbox"/>	<input type="checkbox"/>	<input type="checkbox"/>
5 :	<input type="checkbox"/>	<input checked="" type="checkbox"/>	<input type="checkbox"/>	<input type="checkbox"/>	30 :	<input type="checkbox"/>	<input type="checkbox"/>	<input checked="" type="checkbox"/>	<input type="checkbox"/>
6 :	<input type="checkbox"/>	<input checked="" type="checkbox"/>	<input type="checkbox"/>	<input type="checkbox"/>	31 :	<input type="checkbox"/>	<input checked="" type="checkbox"/>	<input type="checkbox"/>	<input type="checkbox"/>
7 :	<input type="checkbox"/>	<input type="checkbox"/>	<input type="checkbox"/>	<input checked="" type="checkbox"/>	32 :	<input type="checkbox"/>	<input type="checkbox"/>	<input checked="" type="checkbox"/>	<input type="checkbox"/>
8 :	<input type="checkbox"/>	<input type="checkbox"/>	<input type="checkbox"/>	<input checked="" type="checkbox"/>	33 :	<input checked="" type="checkbox"/>	<input type="checkbox"/>	<input type="checkbox"/>	<input type="checkbox"/>
9 :	<input type="checkbox"/>	<input checked="" type="checkbox"/>	<input type="checkbox"/>	<input type="checkbox"/>	34 :	<input type="checkbox"/>	<input checked="" type="checkbox"/>	<input type="checkbox"/>	<input type="checkbox"/>
10 :	<input type="checkbox"/>	<input type="checkbox"/>	<input type="checkbox"/>	<input checked="" type="checkbox"/>	35 :	<input type="checkbox"/>	<input type="checkbox"/>	<input checked="" type="checkbox"/>	<input type="checkbox"/>
11 :	<input checked="" type="checkbox"/>	<input type="checkbox"/>	<input type="checkbox"/>	<input type="checkbox"/>	36 :	<input type="checkbox"/>	<input checked="" type="checkbox"/>	<input type="checkbox"/>	<input type="checkbox"/>
12 :	<input type="checkbox"/>	<input checked="" type="checkbox"/>	<input type="checkbox"/>	<input type="checkbox"/>	37 :	<input type="checkbox"/>	<input type="checkbox"/>	<input checked="" type="checkbox"/>	<input type="checkbox"/>
13 :	<input checked="" type="checkbox"/>	<input type="checkbox"/>	<input type="checkbox"/>	<input type="checkbox"/>	38 :	<input type="checkbox"/>	<input checked="" type="checkbox"/>	<input type="checkbox"/>	<input type="checkbox"/>
14 :	<input type="checkbox"/>	<input checked="" type="checkbox"/>	<input type="checkbox"/>	<input type="checkbox"/>	39 :	<input checked="" type="checkbox"/>	<input type="checkbox"/>	<input type="checkbox"/>	<input type="checkbox"/>
15 :	<input type="checkbox"/>	<input checked="" type="checkbox"/>	<input type="checkbox"/>	<input type="checkbox"/>	40 :	<input checked="" type="checkbox"/>	<input type="checkbox"/>	<input type="checkbox"/>	<input type="checkbox"/>
16 :	<input checked="" type="checkbox"/>	<input type="checkbox"/>	<input type="checkbox"/>	<input type="checkbox"/>	41 :	<input checked="" type="checkbox"/>	<input type="checkbox"/>	<input type="checkbox"/>	<input type="checkbox"/>
17 :	<input checked="" type="checkbox"/>	<input type="checkbox"/>	<input type="checkbox"/>	<input type="checkbox"/>	42 :	<input type="checkbox"/>	<input checked="" type="checkbox"/>	<input type="checkbox"/>	<input type="checkbox"/>
18 :	<input type="checkbox"/>	<input type="checkbox"/>	<input type="checkbox"/>	<input checked="" type="checkbox"/>	43 :	<input type="checkbox"/>	<input checked="" type="checkbox"/>	<input type="checkbox"/>	<input type="checkbox"/>
19 :	<input type="checkbox"/>	<input type="checkbox"/>	<input type="checkbox"/>	<input checked="" type="checkbox"/>	44 :	<input type="checkbox"/>	<input type="checkbox"/>	<input checked="" type="checkbox"/>	<input type="checkbox"/>
20 :	<input type="checkbox"/>	<input checked="" type="checkbox"/>	<input type="checkbox"/>	<input type="checkbox"/>	45 :	<input type="checkbox"/>	<input type="checkbox"/>	<input checked="" type="checkbox"/>	<input type="checkbox"/>
21 :	<input type="checkbox"/>	<input type="checkbox"/>	<input checked="" type="checkbox"/>	<input type="checkbox"/>					
22 :	<input type="checkbox"/>	<input type="checkbox"/>	<input checked="" type="checkbox"/>	<input type="checkbox"/>					
23 :	<input checked="" type="checkbox"/>	<input type="checkbox"/>	<input type="checkbox"/>	<input type="checkbox"/>					
24 :	<input type="checkbox"/>	<input checked="" type="checkbox"/>	<input type="checkbox"/>	<input type="checkbox"/>					
25 :	<input type="checkbox"/>	<input type="checkbox"/>	<input type="checkbox"/>	<input checked="" type="checkbox"/>					